



## **GA2-9** Количественные и порядковые числительные


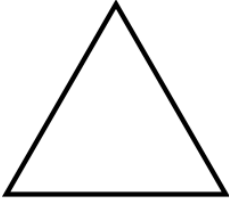

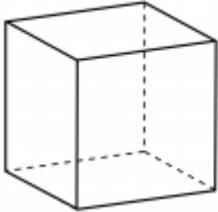
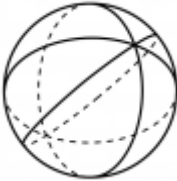
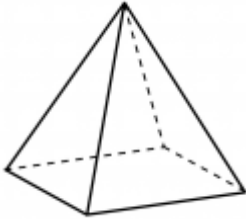
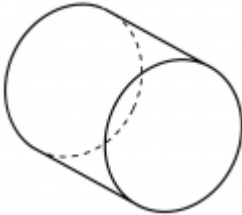
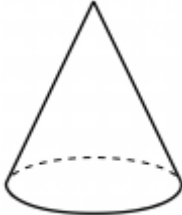
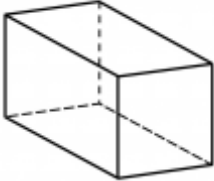
Student \_\_\_\_\_

Skupina \_\_\_\_\_

E-mail \_\_\_\_\_

**Domácí úkol**

Напишите название каждой фигуры:

		
_____	_____	_____
		
_____	_____	_____
		
_____	_____	_____

Напишите количественные числительные словами:

19	
38	
69	
95	
248	
843	
6 861	
2 615	
15 485	
250 527	

Напишите словами примеры:

$\frac{20}{4} = 5$	$10^2 = 100$
$4^3 = 64$	$30 = 2 \times 3 \times 5$

Напишите порядковые числительные словами (první,druhý...):

15	
25	
27	
31	
78	
64	
55	

Переведите на чешский язык

Скидка 5 процентов действует неделю	
Сколько стоит три банана?	
Сок стоит 45 крон	
Сэкономлю 20 крон	

<b>За покупку свыше 700 крон – скидка 10%</b>	
<b>Сегодня двадцать шестого</b>	
<b>Мой индекс - 232 00</b>	
<b>Его гос. номер - 7P5 6786</b>	
<b>Четвёртую часть зарплаты он платит за наем, а десятую за еду</b>	